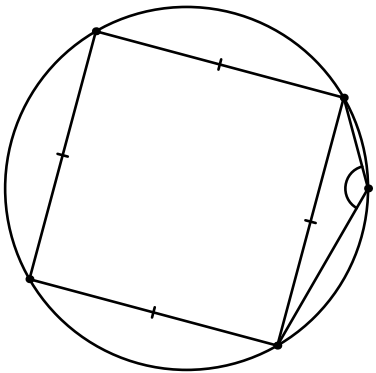
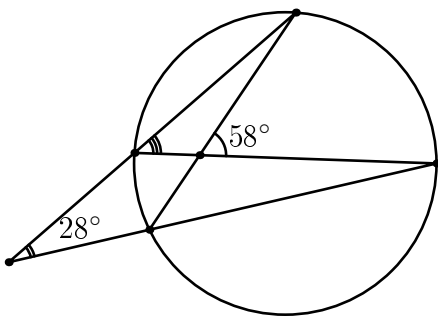


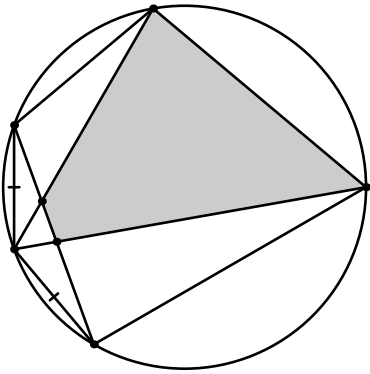
$\overset{\frown}{AB} : \overset{\frown}{BA} = 4 : 11$. Найдите отмеченный угол.



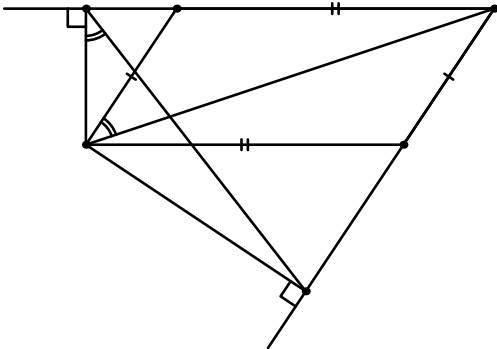
Найдите отмеченный угол.



Найдите угол, отмеченный тремя дужками.



Докажите, что закрашенный четырёхугольник вписан.



Докажите, что отмеченные острые углы равны.