

Разрезания прямоугольников, случайные блуждания и электрические цепи

Михаил Скопенков

В курсе доказаны следующие классические результаты, а также некоторые их современные обобщения:

Теорема Пойа. Если человек случайным образом перемещается по 2-мерной решетке, то он вернется в начальную точку с вероятностью 1. Если же он перемещается по 3-мерной решетке, то вероятность его возвращения строго меньше 1.

Теорема Дена. Если прямоугольник разрезан на квадраты, не обязательно равные, то отношение длин его перпендикулярных сторон рационально.

Теорема Куранта-Фридрихса-Леви.¹ На границе единичного квадрата задана кусочно-линейная функция T . На узлах квадратной решетки с шагом $1/2^N$ задана функция T_N , значение которой в каждом узле внутри квадрата равно среднему арифметическому ее значений в соседних узлах, а в каждом узле на границе равно функции T . Тогда при неограниченном увеличении числа N функции T_N стремятся к некоторой функции.

Доказательства основаны на замечательной физической интерпретации, использующей электрические цепи. Курс в основном состоит из задач, решение которых доступно школьникам. Никаких специальных знаний физики не требуется. Звездочкой отмечены необязательные разделы и задачи.

1. Случайные блуждания

1.1. Одномерные блуждания

Мы сначала сформулируем задачу и лишь потом дадим необходимые определения.

1.1.1. Человек ходит по отрезку улицы, состоящему из 5 кварталов. Начав свой путь на границе кварталов в точке x , он с вероятностью $1/2$ перемещается на один квартал влево и с вероятностью $1/2$ — на один квартал вправо. Подойдя к границе кварталов, он опять выбирает направление движения случайным образом. Если он оказывается в точке 5 (его дом) или в точке 0 (бар), то он прекращает движение: см Рис 1.



Рис. 1: Случайное движение по улице; см. задачу 1.1.1.

E-mail address: skopenkov@rambler.ru

¹Доказательство данной теоремы не вошло в данный материал.

(А)* Напишите компьютерную программу, моделирующую движение этого человека. Запустите ее много раз и определите процент числа случаев, в которых он приходит домой. Вы можете использовать этот способ для угадывания ответов в последующих задачах.

(В) Пусть $P_T(x)$ — вероятность того, что человек, начавший свое движение в точке x и сделавший не более T ходов, оказался дома. Заполните следующую таблицу десятичными дробями с точностью до сотых.

Таблица 1: Вероятности $P_T(x)$ для малых T

x	0	1	2	3	4	5
T						
1	0.00	0.00	0.00	0.00	0.50	1.00
2						
3						
4						

(С) Найдите вероятность $P(x)$ того, что человек дойдет до дома через какое-то количество ходов.

Определение. (А) Предположим, что у некоторого эксперимента имеется n равновероятных исходов, и событие X происходит ровно в m из них. Тогда вероятностью события X называется число $P_1(X) := m/n$.

Например, вероятность выпадения орла при бросании монеты — $1/2$; вероятность выпадения 6 очков на кубике — $1/6$; вероятность пойти направо по нашей улице — $1/2$.

(В) Теперь предположим, что событие X зависит от последовательности таких экспериментов. Последовательность из T экспериментов имеет n^T возможных исходов. Предположим, что событие X происходит ровно при m_T исходов из них. Тогда вероятностью события X называется число $P_T(X) := m_T/n^T$.

Например, есть ровно 4 возможных исхода при бросании монеты 2 раза:

1-ый бросок	орел	орел	решка	решка
2-ой бросок	орел	решка	орел	решка

Пусть событие X состоит в появлении решки хотя бы один раз. Событие X происходит в 3 случаях из 4 возможных. Поэтому вероятность события X есть $P_2(X) = 3/4$.

Вероятность получения более 10 очков при бросании двух кубиков — $1/12$, так как это событие происходит в ровно 3 случаях ($5 + 6$, $6 + 5$ или $6 + 6$) из 36 возможных. Вероятность того, что человек, начавший с точки 3, сдвинется вправо два раза подряд составляет $1/4$.

(С) Пусть теперь событие X зависит от бесконечной последовательности таких экспериментов. Мы будем называть число $P(X)$ вероятностью события X , если вероятности $P_T(X)$ стремятся к числу $P(X)$ при стремлении T к бесконечности².

²Формально это означает, что для каждого $\varepsilon > 0$ существует число T_0 такое, что для каждого $T > T_0$ выполнено $|P(X) - P_T(X)| < \varepsilon$.

Например, вероятность выпадения решки хотя бы один раз в бесконечной серии бросков составляет $P(X) = 1$, так как $P_T(X) = 1 - 1/2^T$ стремится к 1 при стремлении T к бесконечности.

То, что вероятности $P(X)$ существуют для всех событий X , рассматриваемых в проекте, можно использовать без доказательства.

1.1.2. * Петя и Паша играют на монетки; всего у них есть 5 монеток; в каждом раунде Петя выигрывает у Паши одну монетку с вероятностью $1/2$ и проигрывает с вероятностью $1/2$; они играют до тех пор, пока у Пети не станет 0 монеток (он проиграл) или 5 (он выиграл все монеты Паши). Найдите вероятность $P(x)$ того, что Петя выиграет, начав игру с x монетками.

1.1.3. * Предположим, нашего "путешественника" сносит в одну сторону; точнее, пусть он каждый раз перемещается вправо с вероятностью p и влево с вероятностью $q = 1 - p$. Найдите вероятности $P(x)$ в этом случае.

1.1.4. * Предположим, что вы играете на деньги; сначала у вас 20 монет, а у вашего соперника — 50 монет; в каждой игре вы выигрываете одну монету с вероятностью 0.45 и проигрываете с вероятностью 0.55; игра продолжается до тех пор, пока у кого-либо не закончатся деньги. Найдите вероятность своего разорения.

Определение. *Электрическая цепь* — это связный конечный граф, у которого каждому ребру xy приписано положительное вещественное число, называемое его *проводимостью*³ $C(xy)$, и задано два непересекающихся выделенных множества вершин (P и N). Вершины из множества N соединены с отрицательным полюсом батарейки и землей, а вершины из множества P — с положительным; см. рисунок 2.

Потенциалы вершин $v(x)$ определяются следующими аксиомами:

1. *Граничные условия.* Если $x \in N$, то $v(x) = 0$. Если $x \in P$, то $v(x) = 1$.
2. *Правило Кирхгофа.* Если $x \notin P \cup N$, то $\sum_{xy} C(xy) (v(x) - v(y)) = 0$, где суммирование ведется по всем ребрам xy , содержащим вершину x .

Число $i(xy) := C(xy) (v(x) - v(y))$ называется *током*, идущим по ребру xy ; $i(x) := \sum_{xy} i(xy)$ — *током*, втекающим в цепь через вершину x (так, $i(x) = 0$ для каждого $x \notin P \cup N$ по аксиоме 2); $C := \sum_{x \in P} i(x)$ называется *эффективной проводимостью* цепи между множествами P и N ; $Q := \sum_{xy} C(xy) (v(x) - v(y))^2$, где суммирование ведется по всем ребрам цепи, называется *тепловой мощностью* цепи.

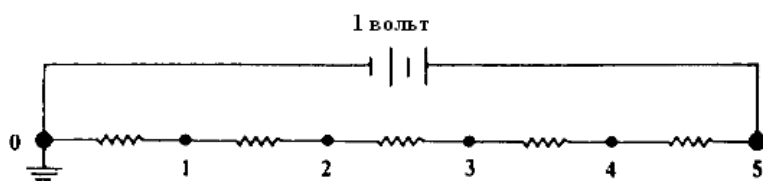


Рис. 2: Электрическая цепь; см. задачу 1.1.3.

³Величина, обратная проводимости, называется *сопротивлением*.

1.1.5. Одинаковые резисторы соединены последовательно и подключены к батарее в 1 вольт как показано на рисунке 2. Найдите потенциалы $v(x)$ в точках $x = 0, 1, 2, 3, 4, 5$.

1.1.6. Рассмотрим цепь с вершинами $0, 1, \dots, n$, ребрами $01, 12, \dots, (n-1)n$ единичной проводимости, и выделенными множествами $N = \{0\}$, $P = \{n\}$.

(А) *Принцип максимума.* Функция $v(x)$, удовлетворяющая аксиоме 2 достигает своего максимума и минимума в вершинах из множества $P \cup N$.

(В) *Единственность.* Если $v(x)$ и $u(x)$ — две функции, удовлетворяющие аксиомам 1–2, то $v(x) = u(x)$ для всех x .

(С) Найдите потенциалы $v(x)$ и эффективную проводимость данной цепи. К чему они стремятся при стремлении числа n к бесконечности?

1.1.7. Сформулируйте и докажите теорему Поя для 1-мерной решетки.

1.2. Двумерные блуждания

1.2.1. Рассмотрим город, схема которого приведена на рисунке 3 слева. Отрезки обозначают улицы. Пути отхода помечены буквой E , а буквой P помечены точки, занятые полицией. Найдите с точностью до сотых вероятность $P(x)$ того, что начав свой путь в точке x , человек убежит, а не попадет в руки полиции. Из точки $x = (a, b)$ он перемещается в каждую из точек $(a + 1, b)$, $(a - 1, b)$, $(a, b + 1)$, $(a, b - 1)$ с вероятностью $1/4$. Если он достигает одной из точек E или P , то его передвижения заканчиваются.

1.2.2. Найдите потенциалы $v(x)$ в цепи из единичных резисторов на рисунке 3 справа.

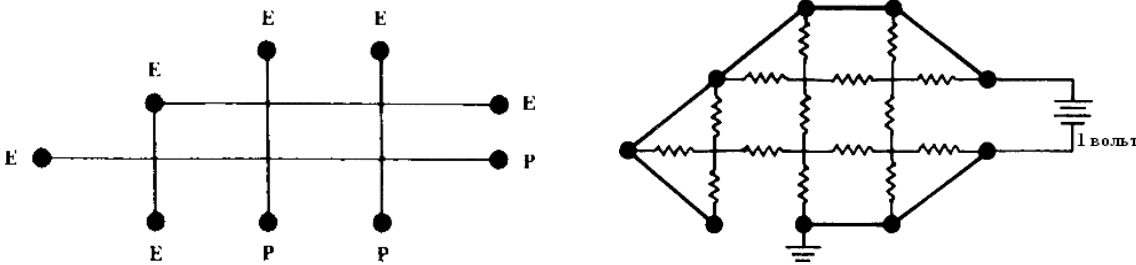


Рис. 3: Случайное движение по городу и электрическая цепь; см. задачи 1.2.1 и 1.2.2.

1.2.3. Паук перемещается случайным образом по ребрам

(А) куба; (В)* октаэдра; (С)* додекаэдра; (D)* икосаэдра;

если он начинает движение в точке a , то какова вероятность того, что он достигнет противоположной вершины h быстрее, чем вернется в начальную вершину a ; см. рисунок 4 слева?

1.2.4. Следующие преобразования сохраняют эффективную проводимость цепи:

(А) замена двух резисторов, соединенных последовательно, на один резистор проводимости $1 / \left(\frac{1}{C_1} + \frac{1}{C_2} \right)$; см. рисунок 5 слева;

(В) замена двух параллельно соединенных резисторов на один резистор с проводимостью $C_1 + C_2$; см. рисунок 5 справа;

(С) объединение двух вершин с одинаковыми потенциалами в одну новую вершину.

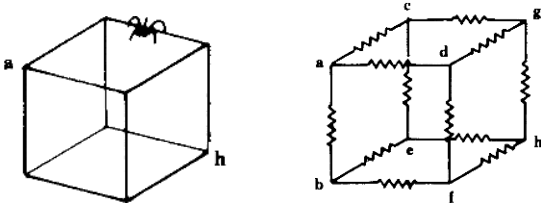


Рис. 4: Случайное блуждание по кубу и электрическая цепь; см. задачи 1.2.3(A) и 1.2.5(A).

1.2.5. Найдите эффективную проводимость между

- (1) противоположными вершинами; (2)* смежными вершинами;
 (A) куба; (B)* октаэдра; (C)* додекаэдра; (D)* икосаэдра;
 с ребрами единичной проводимости; см рисунок 4 справа.

1.2.6. * Пьяный турист выходит из отеля и перемещается случайным образом по улицам Парижа, схема центра которого приведена на рисунке 6 слева. Найдите вероятность того, что он дойдет до Триумфальной арки до того, как доберется до окраины города.

1.2.7. ** Проводимость между вершинами (A) a и b ; (B) a и c ; двумерной решетки из единичных резисторов равна 2 и $\pi/2$, соответственно; см. Рис. 6 справа.

Для 2-мерной решетки в определении потенциала мы добавляем еще одну аксиому:

3. $v(x)$ стремится к $1/2$ при стремлении расстояния между x и некоторой фиксированной вершиной к бесконечности.

Разрешается пользоваться без доказательства существованием функции $v(x)$, удовлетворяющей аксиомам 1–3.

1.2.8. *Закон монотонности.* Разрезание каких-либо ребер цепи может только уменьшить эффективную проводимость между данными вершинами; см. рисунок 7 слева. Объединение каких-либо вершин в одну вершину может только увеличить эффективную проводимость между данными вершинами; см. рисунок 7 в центре.

1.2.9. (A) Докажите, что эффективная проводимость между центром и границей квадратной решетки 4×4 из единичных резисторов меньше 3; см рисунок 7 справа.

(B) К чему стремится проводимость между центром и границей квадратной решетки $2n \times 2n$ из единичных резисторов при стремлении n к бесконечности?

1.2.10. Докажите теорему Пуя для 2-мерной решетки.

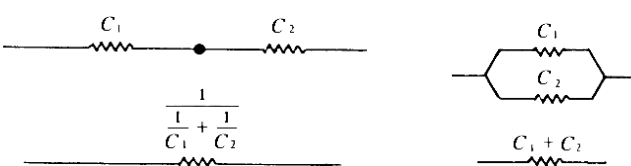


Рис. 5: Последовательное и параллельное соединение; см. задачу 1.2.4.

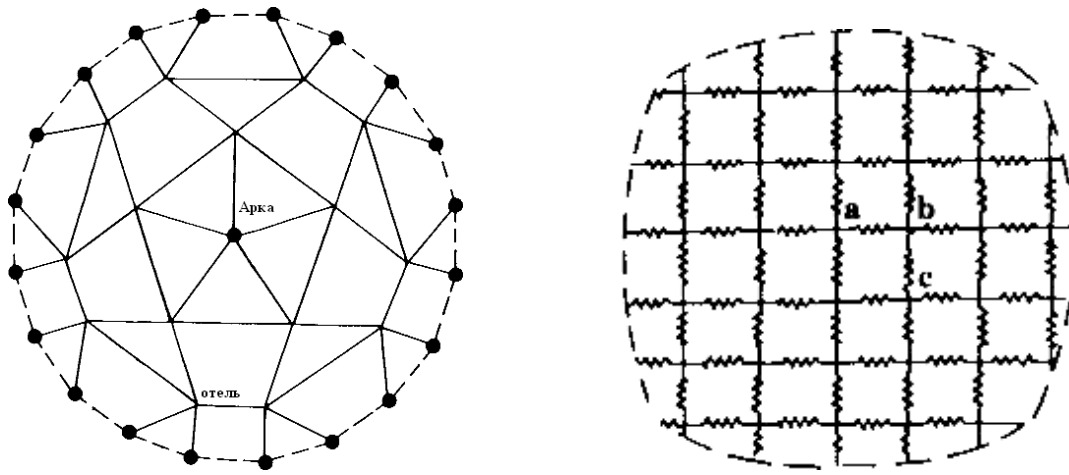


Рис. 6: Туристическая карта Парижа и решеточная цепь; см. задачи 1.2.6 и 1.2.7.

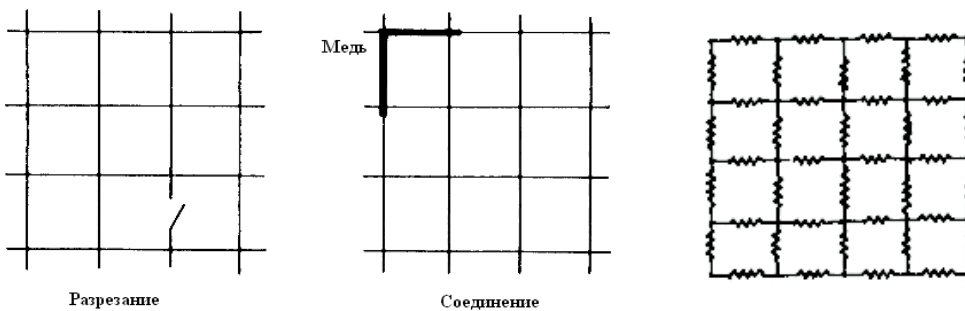


Рис. 7: Разрезание, соединение, и квадратная решетка 4×4 ; см. задачи 1.2.8 и 1.2.9.

1.3. Трехмерные блуждания

1.3.1. Найдите сопротивление бинарного дерева глубины (А) 3; (В) 2010, составленного из единичных резисторов (см. рис. 8 слева).

1.3.2. Найдите сопротивление *модифицированного* бинарного и троичного деревьев глубины 2010, в которых каждый резистор на k -ом уровне заменяется на 2^k последовательно соединенных единичных резисторов (см. рис. 8 в центре).

1.3.3. Какие из деревьев, упомянутых (А) в задаче 1.3.1; (В) в задаче 1.3.2; можно вырезать из трехмерной решетки?

1.3.4. А если разрешаются пересечения (см. рис. 8 справа) ребер на равном расстоянии от корня?

1.3.5. Докажите теорему Пойа для 3-мерной решетки.




Рис. 8: (Слева) бинарное дерево глубины 3; (в центре) модифицированное бинарное дерево глубины 3; (справа) разрешенные пересечения ребер в этом дереве; см. задачи 1.3.1, 1.3.2 и 1.3.4.

2. Разрезания прямоугольника

2.1. Разрезания прямоугольника на квадраты

Будем считать, что стороны всех рассматриваемых прямоугольников параллельны координатным осям, то есть либо *вертикальны*, либо *горизонтальны*. Под *отношением сторон* прямоугольника мы всегда понимаем отношение длины его горизонтальной стороны к длине вертикальной.

Пример 1. Прямоугольник с отношением сторон R разделён вертикальным разрезом на два прямоугольника с отношениями сторон R_1 и R_2 (рис. 9а). Тогда $R = R_1 + R_2$.

Пример 2. Прямоугольник с отношением сторон R разделён горизонтальным разрезом на два прямоугольника с отношениями сторон R_1 и R_2 (рис. 9б). Тогда $R = \frac{R_1 R_2}{R_1 + R_2}$.

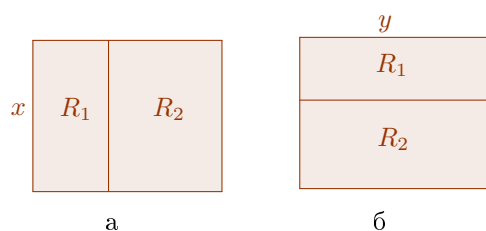


Рис. 9: Разрезания прямоугольника на 2 прямоугольника

2.1.1. Имеется прямоугольный шкаф с квадратными полками, изображённый на рисунке 10. Найдите отношение ширины шкафа к его высоте.



Рис. 10: Каково отношение ширины этого шкафа к его высоте?

2.1.2. * Докажите, что плоскость можно замостить попарно различными квадратами, длины сторон которых — целые числа.

2.1.3. * Прямоугольник разделён на пять прямоугольников с отношениями сторон $R_1 = R_2 = R_3 = 1$, $R_4 = R_5 = 3$ так, как показано на рисунке 11 слева. Найдите отношение сторон большого прямоугольника.

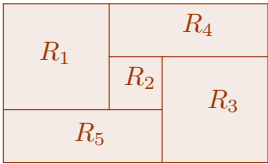


Рис. 11: Разрезание прямоугольника на 5 прямоугольников

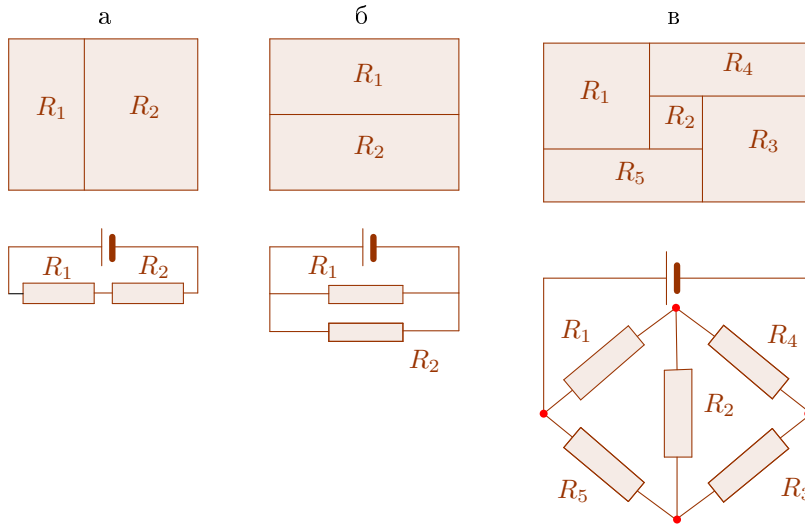


Рис. 12: Физическая интерпретация

Пример 1'. Пусть два резистора R_1 и R_2 соединены *последовательно* (см. нижнюю часть рисунка 12а). Тогда сопротивление полученной цепи равно $R_1 + R_2$.

Пример 2'. Пусть два резистора R_1 и R_2 соединены *параллельно* (см. нижнюю часть рисунка 12б). Тогда сопротивление полученной цепи вычисляется по формуле $\frac{R_1 R_2}{R_1 + R_2}$.

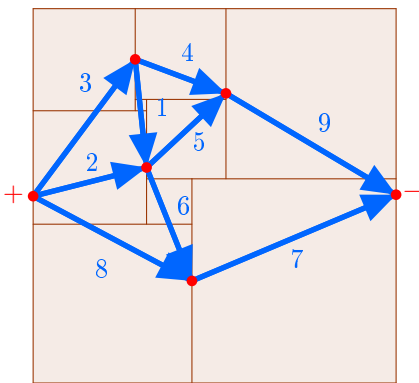


Рис. 13: Построение электрической цепи по разрезанию

Физическая интерпретация. Покажем, как сопоставить разрезанию прямоугольника на меньшие прямоугольники электрическую цепь; на рисунке 13 приведен пример.

Каждой вертикальной линии разреза и вертикальным сторонам большого прямоугольника сопоставлена вершина электрической цепи. Вершина лежит на соответствующем ей отрезке. Каждый меньший прямоугольник ограничен слева и справа двумя вертикальными отрезками. В электрической цепи его изображением служит ребро,

соединяющее две вершины. Одна из этих вершин изображает левую сторону маленького прямоугольника, а другая — правую. Сопротивление этого резистора полагается численно равным отношению сторон соответствующего прямоугольника. Вершины, соответствующие вертикальным сторонам разрезаемого прямоугольника, соединяются с разными полюсами батарейки (на рисунке 13 сама батарейка не изображена).

2.1.4. Пусть прямоугольник с отношением сторон R разрезан на n прямоугольников с отношениями сторон R_1, \dots, R_n . Тогда из резисторов проводимостей R_1, \dots, R_n можно составить электрическую цепь проводимости R .

Функция $v(x)$ на вершинах электрической цепи называется *гармонической*, если она удовлетворяет аксиоме 2 из определения электрической цепи. Вершины из множества $P \cup N$ назовем *граничными*, остальные — *внутренними*.

2.1.5. (А) Принцип суперпозиции. Если функции $u(x)$ и $v(x)$ — гармонические и $a, b \in \mathbb{R}$, то и функция $au(x) + bv(x)$ — гармоническая.

(В) Принцип максимума. Гармоническая на конечной электрической цепи функция принимает свое наибольшее и наименьшее значения на граничных вершинах.

(С) Единственность. Если $u(x)$ и $v(x)$ — две гармонические функции, совпадающие во всех граничных вершинах конечной электрической цепи, то $u(x) = v(x)$ во всех вершинах x графа.

2.1.6. (А)* Альтернатива Фредгольма. Пусть имеется система линейных уравнений

$$\begin{cases} a_{1,1}x_1 + \dots + a_{1,n}x_n = b_1, \\ \dots\dots\dots\dots\dots\dots\dots\dots\dots\dots\dots\dots \\ a_{n,1}x_1 + \dots + a_{n,n}x_n = b_n \end{cases},$$

в которой число уравнений равно числу неизвестных. Докажите, что всегда выполняется одна из следующих возможностей:

1. для любых b_1, \dots, b_n система имеет ровно одно решение (в частности, при $b_1 = \dots = b_n = 0$ существует только нулевое решение);
2. для некоторых b_1, \dots, b_n система неразрешима, а для некоторых (в том числе нулевых) имеет бесконечно много решений.

(В)* Задача Дирихле. Докажите, что для любой конечной электрической цепи существует функция $v(x)$, удовлетворяющая аксиомам 1–2.

2.1.7. * Эффективная проводимость любой цепи положительна.

2.1.8. (А) Пусть система линейных уравнений с рациональными коэффициентами имеет единственное решение. Тогда это решение состоит из рациональных чисел.

(В)* Существует формула, в которой участвуют только операции сложения, вычитания, умножения и деления, выражающая эффективную проводимость цепи через проводимости отдельных резисторов.

2.1.9. Докажите теорему Дена.

2.2. Разрезания квадрата на подобные прямоугольники*

2.2.1. Квадрат разрезан на подобные прямоугольники, как показано на рисунке 14. Найдите отношение сторон R прямоугольников разрезания.

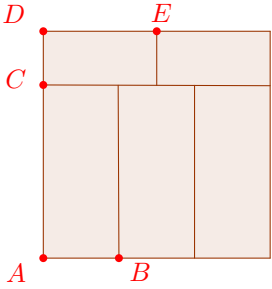


Рис. 14: Разрезание квадрата на 5 подобных прямоугольников

2.2.2. Разрежьте квадрат на прямоугольники с отношениями сторон $2 + \sqrt{2}$ и $\frac{1}{2 + \sqrt{2}}$.

2.2.3. Пусть квадрат разрезан на прямоугольники с отношением сторон R и $\frac{1}{R}$. Тогда R — корень ненулевого многочлена с целыми коэффициентами.

2.2.4. Квадрат нельзя разрезать на прямоугольники с отношениями сторон (A) $\sqrt{2}$ и $\frac{1}{\sqrt{2}}$; (B) $1 + \sqrt{2}$ и $\frac{1}{1 + \sqrt{2}}$; (C) $\sqrt[3]{2}$ и $1/\sqrt[3]{2}$.

2.2.5. (A) *Вариационный принцип.* Пусть $v(x)$ — произвольная функция на вершинах конечной электрической цепи, удовлетворяющая аксиоме 1, но не обязательно аксиоме 2. Занумеруем вершины графа числами $1, \dots, n$ и пусть $1, \dots, k$ — внутренние вершины. Обозначим $v_1 := v(1), v_2 := v(2), \dots, v_n = v(n)$. Будем рассматривать v_1, \dots, v_k как переменные. Рассмотрим тепловую мощность $Q(v_1, \dots, v_k) := \sum_{xy} C(xy) (v_x - v_y)^2$ как функцию переменных v_1, \dots, v_k . Докажите, что функция $Q(v_1, \dots, v_k)$ принимает наименьшее значение, когда функция $v(x)$ — гармоническая. (B) Докажите, что для функции $Q(v_1, \dots, v_k)$ существует ровно один набор значений v_1, \dots, v_k , при котором она достигает своего минимального значения. Используя это, дайте второе доказательство того факта, что для конечной электрической цепи функция $v(x)$, заданная аксиомами 1–2, существует и единственна.

(C) *Закон сохранения энергии.* Докажите, что минимальное значение тепловой мощности $Q(v_1, \dots, v_k)$ численно равно эффективной проводимости C .

(D) *Принцип монотонности.* Докажите, что если в цепи одну проводимость увеличить, то эффективная проводимость не уменьшится.

2.2.6. *Электрическая цепь переменного тока* определяется аналогично электрической цепи, только величинам $c(xy)$ и $v(x)$ разрешается принимать любые комплексные значения, такие что $\operatorname{Re} c(xy) > 0$. Докажите существование и единственность потенциала в любой цепи переменного тока.

2.2.7. При каких R квадрат можно разрезать на прямоугольники с отношениями сторон R и $1/R$?

3. Указания и решения

3.1. Случайные блуждания

1.1.1 (А) Правильность работы программы проверяется следующим образом: разность между “настоящей” и посчитанной вероятностями должна быть примерно пропорциональна числу $\frac{1}{\sqrt{n}}$, где n — число экспериментов.

(В) Ответ смотрите в таблице.

Таблица 2: Вероятности $P_T(x)$ и $P(x)$

T	x	0	1	2	3	4	5
1		0.00	0.00	0.00	0.00	0.50	1.00
2		0.00	0.00	0.00	0.25	0.50	1.00
3		0.00	0.00	0.13	0.25	0.63	1.00
4		0.00	0.06	0.13	0.38	0.63	1.00
	$P(x)$	0.00	0.20	0.40	0.60	0.80	1.00

(С) Ответ: $P(x) = x/5$; см последнюю строку в таблице выше.

Доказательство. Рассмотрим случайное блуждание по точкам $0, 1, 2, \dots, n$. Обозначим за $P(x)$ вероятность дойти из x до N раньше, чем до 0 . Рассмотрим получившуюся функцию $P(x)$, определенную в точках $x = 0, 1, 2, \dots, n$. Она обладает следующими свойствами:

1. $P(0) = 0$ и $P(n) = 1$.

2. $P(x) = \frac{1}{2}P(x-1) + \frac{1}{2}P(x+1)$ для каждого $x = 1, 2, \dots, n-1$.

Свойство 1 следует из того, что при достижении точек 0 и n перемещения заканчиваются; для игры на монетки это означает конец игры. Свойство 2 заключается в том, что вероятность попасть домой из внутренней точки x равна среднему арифметическому вероятностей попадания домой из соседних точек. Свойство 2 выводится из следующего утверждения:

Базовое Утверждение. Пусть E — некоторое событие, F и G — два события, из которых всегда случается ровно одно. Тогда

$$P(E) = P(F) \cdot P(E \text{ последует за } F) + P(G) \cdot P(E \text{ последует за } G).$$

В нашем случае E — “человек дойдет до бара”, F — “первый раз он пойдет налево” и G — “первый раз он пойдет направо”. Тогда получаем $P(E) = P(x)$, $P(F) = P(G) = 1/2$, $P(E \text{ последует за } F) = P(x-1)$, $P(E \text{ последует за } G) = P(x+1)$ и свойство 2 доказано.

Из этих двух свойств вытекает, что $P(x)$ представляет собой арифметическую прогрессию $P(x) = x/n$.

1.1.2 Ответ: $P(x) = x/5$; эта задача эквивалентна задаче 1.1.1(С).

1.1.3 Ответ: $P(x) = \frac{(q/p)^x - 1}{(q/p)^5 - 1}$.

Указание: Рассуждайте так же, как в решении задачи 1.1.1(С). Покажите, что свойства 1–2 надо заменить на такие:

1. $P(0) = 0$ и $P(n) = 1$.

2. $P(x) = qP(x-1) + pP(x+1)$ для каждого $x = 1, 2, \dots, n-1$.

Выберите A и B такими, чтобы функция $f(x) = A(q/p)^x + B$ удовлетворяла новым свойствам 1–2.

1.1.4 *Ответ:* $\approx 99.995\%$. Точное значение: $1 - \frac{(0.55/0.45)^{20}-1}{(0.55/0.45)^{70}-1}$; смотрите решение задачи 1.1.3.

1.1.5 *Ответ:* $v(x) = x/5$. *Указание.* Из аксиом 1–2 следует, что функция $v(x)$ будет линейной для этой цепи.

1.1.6 (А) Пусть M — максимум функции $v(x)$. Тогда если $v(x) = M$ для $x \notin P \cup N$, то это же равенство должно быть выполнено для $v(x-1)$ и $v(x+1)$ так как $v(x)$ — среднее арифметическое $v(x-1)$ и $v(x+1)$. Если $x-1$ оказалась внутренней точкой, применяем то же самое рассуждение и получаем $f(x-2) = M$; продолжая рассуждение, получаем $f(0) = M$. Для минимального значения аналогично.

(В) Положим $h(x) = v(x) - u(x)$. Тогда для любой внутренней точки x имеем:

$$\frac{h(x-1) + h(x+1)}{2} = \frac{v(x-1) + v(x+1)}{2} - \frac{u(x-1) + u(x+1)}{2}$$

и поэтому функция $h(x)$ также удовлетворяет аксиоме 2. Но $h(x) = 0$ при x из $P \cup N$; из принципа максимума получаем, что максимальное и минимальное значения h равны 0. Значит, $h(x) = 0$ и $v(x) = u(x)$.

(С) *Ответ:* $v(x) = x/n$, $C = 1/n$; $C \rightarrow 0$ и $v(x) \rightarrow 0$ для каждого фиксированного x при $n \rightarrow \infty$.

Указание: Легко проверить, что функция $f(x) := x/n$ удовлетворяет аксиомам 1–2. Из единственности (см 1.1.6(В)) следует, что $v(x) = x/n$.

1.1.7 Теорема. При случайном блуждании по 1-мерной решетке вероятность вернуться когда-либо в начальную точку равна 1.

Доказательство. Пусть P — вероятность вернуться когда-либо в начальную точку. Обозначим P_n вероятность вернуться в начальную точку до попадания в n или $-n$. Предположим, что все эти вероятности существуют. Тогда $P_n \leq P \leq 1$ для любого n .

Сейчас мы докажем, что $P_n = 1 - 1/n$. После первого “хода” человек попадает в одну из точек 1 и -1 с вероятностью $1/2$. Если он оказался в точке 1, то из задачи 1.1.1(С) получаем, что вероятность вернуться в начало до попадания в точку n равна $1 - 1/n$. Если он оказался в точке -1 , рассуждаем аналогично. Применяя Базовое Утверждение из решения задачи 1.1.1(С), получаем $P_n = \frac{1}{2} \left(1 - \frac{1}{n}\right) + \frac{1}{2} \left(1 - \frac{1}{n}\right) = 1 - \frac{1}{n}$. (Еще можно было заметить, что $P_n = 1 - C$, где $C = 1/n$ — проводимость цепи из задачи 1.1.6.)

Так как $1 - 1/n \leq P \leq 1$ для каждого n , то P равно 1. \square

1.2.1 *Ответ:* см. рисунок 15 слева.

Указание. Схема города представлена на рисунке 15 справа. Вероятности $P(x)$ обозначены за a, b, c, d , и e . Как и в 1-мерном случае, функция $P(x)$ удовлетворяет аксиомам 1–2 из определения электрической цепи. Отсюда мы получаем систему линейных

	1	1	
1	.823	.787	1
1	.876	.506	.323 0
	1	0	0

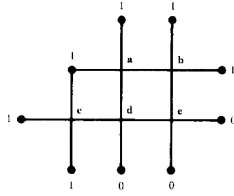


Рис. 15: Вероятности $P(x)$ или потенциалы $v(x)$; см. задачи 1.2.1 и 1.2.2.

уравнений:

$$a = (b + d + 2)/4;$$

$$b = (a + c + 2)/4;$$

$$c = (d + 3)/4;$$

$$d = (a + c + e)/4;$$

$$e = (b + d)/4.$$

Ответ получаем, решая эту систему.

Замечание. Нахождение точного решения для двухмерной “задачи Дирихле” — дело сложное; поэтому мы рассмотрим два метода нахождения приближенных решений.

Первый метод использует случайные блуждания. Он называется *методом Монте-Карло*, так как случайные блуждания связаны с вероятностями, а в Монте-Карло находится известные игорные дома, азартные игры в которых тоже связаны с вероятностями. Мы моделируем много случайных блужданий из точки x и находим долю путей, закончившихся в точках E . Из закона больших чисел следует, что полученная оценка будет приближением для “настоящей” вероятности $P(x)$. Этот яркий и простой метод позволяет находить решения, но он не очень эффективен.

Теперь опишем более эффективный *метод релаксации*. Напомним, что мы ищем функцию с заданными значениями на границе у которой значение в любой внутренней точке равно среднему арифметическому значений ее соседей. Возьмем какую-нибудь функцию с подходящими граничными значениями и возьмем некоторую внутреннюю точку. В общем случае значение функции не будет равно среднему арифметическому значений в соседних точках. Тогда попробуем “подогнать”: положим новое значение функции в этой точке равным среднему арифметическому значений в соседних точках. Теперь будем по очереди брать остальные внутренние точки и делать с ними ту же операцию. Когда мы пройдем по всем внутренним точкам, функция не будет удовлетворять аксиоме 2, так как после изменения значения функции в одной точке мы могли изменить значения в соседних с ней точках, нарушив равенство. Тем не менее, полученная функция будет “лучше” удовлетворять аксиоме 2, чем та функция, с которой мы начали; повторяя этот процесс (проходя каждый раз по всем внутренним точкам) мы будем получать приближения к решению лучше и лучше.

1.2.2 *Ответ:* см. рисунок 15 слева; эта задача эквивалентна задаче 1.2.1.

1.2.3 *Ответ:* (A) 2/5; (B) 1/2; (C) 2/7; (D) 2/5.

Указание. Сведем задачу к задаче 1.2.5 при помощи следующего утверждения:

Физическая интерпретация вероятности. Вероятность того, что случайное блуждание по графу G из вершины a достигнет вершины h до возврата в a , равна

$$P = C / \deg a,$$

где C — проводимость графа G (все резисторы единичные) между a и h , а $\deg a$ — число ребер, выходящих из вершины a .

1.2.4 (С) Указание. Функция $v(x)$ однозначно определена на вершинах получившейся цепи. Проверьте, что она удовлетворяет аксиомам 1–2.

1.2.5 Ответ: (1А) $6/5$; (1В) 2 ; (1С) $6/7$; (1D) 2 .

(2А) $12/7$; (2В) $12/5$; (2С) $30/19$; (2D) $30/11$.

(2А) **Указание.** Соединим точки a и b с батареей; см. рисунок 4 справа. Потенциалы в точках c и d равны из симметрии; аналогично в точках e и f . Таким образом, наша схема эквивалентна схеме, изображенной на рисунке 16 слева.

Используя формулы для параллельного и последовательного соединения резисторов, эта цепь сводится в к цепи из одного резистора сопротивлением $7/12$ ом (см рисунок 16 справа). Таким образом, сопротивление равно $7/12$.

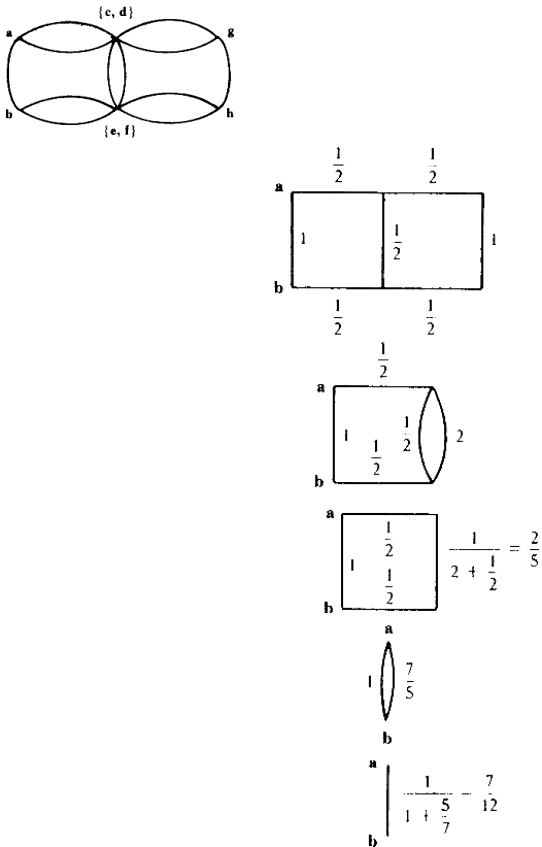


Рис. 16: Упрощение цепи; см решение задачи 1.2.5.

1.2.6 Ответ: $1/7$. Решение аналогично решению задачи 1.2.3.

1.2.7 (В) Авторам неизвестно элементарное решение задачи. Красивое решение, использующее дискретное преобразование Фурье, вы можете найти в книге [16].

1.2.8 Указание. Смотрите задачу 2.2.5.

1.2.9 (В) Ответ: $C \rightarrow 0$ при $n \rightarrow \infty$.

Указание. Применим закон монотонности: объединим вместе точки, расположенные на квадратах, как показано на рисунке 17 сверху. Полученная цепь эквивалентна цепи на рисунке 17 в центре. Так как можно заменить n параллельных резисторов в 1 ом на один резистор в $1/n$ ом, цепь эквивалентна цепи на рисунке 17 снизу. Проводимость этой цепи равна

$$\frac{1}{\sum_{k=1}^n \frac{1}{8k-4}}.$$

Это число стремится к нулю при стремлении n к бесконечности. Так как проводимость старой цепи не больше, она тоже стремится к нулю.

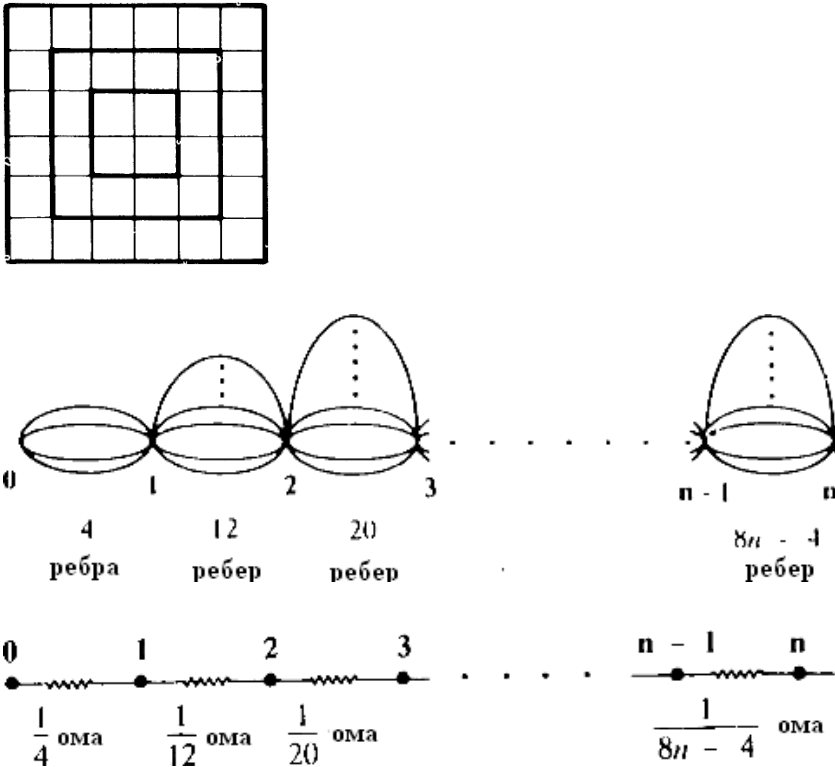


Рис. 17: Объединение в квадратной цепи и эквивалентная цепь; см решение задачи 1.2.9.

1.2.10 *Указание.* Пусть P — вероятность того, что при случайном блуждании по 2-мерной решетке мы вернемся в начальную точку. Обозначим за P_n вероятность того, что случайное блуждание вернется в начальную точку до достижения граничных точек квадрата $2n \times 2n$ с центром в начальной точке. Предположим, что все эти вероятности существуют. Ясно, что $P_n \leq P \leq 1$ для каждого n . Из физической интерпретации вероятности получаем, что $P_n = 1 - C/4$, где C — эффективное сопротивление между центром и границей квадрата $2n \times 2n$. Из решения задачи 1.2.9(В) следует, что C стремится к нулю при стремлении n к бесконечности. Поэтому $P_n \rightarrow 1$ при $n \rightarrow \infty$ и P равно 1. \square

1.3.1 *Указание.* Докажите по индукции, что сопротивление бинарного дерева глубины n из единичных резисторов равно $1 - \frac{1}{2^n}$.

1.3.2 *Указание.* Потенциалы в точках, расположенных на одинаковом расстоянии от корня дерева, равны из симметрии. Объединив такие точки в бинарном дереве, получим цепь, изображенную на рисунке 18. Ее сопротивление равно $\frac{1}{2} \cdot n = \frac{n}{2}$. Для

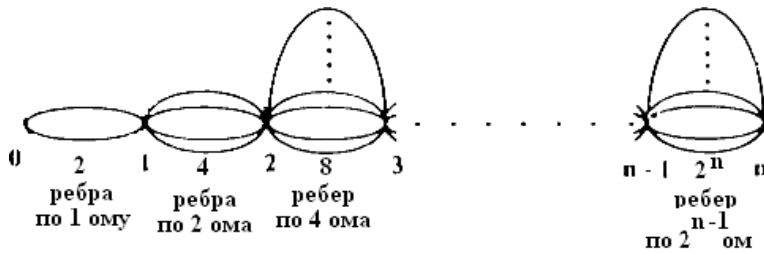


Рис. 18: Подсчет сопротивления дерева; см решение задачи 1.3.2.

троичного дерева аналогично получаем $R = \frac{1}{3} + \frac{2}{9} + \dots + \frac{2^{n-1}}{3^n}$. Отсюда $R = 1 - \frac{2^n}{3^n}$.

1.3.3 Указание. Двоичное дерево глубины 3 вырезать не сложно. Покажем, что двоичное дерево глубины 2010 вырезать нельзя. Если его удалось вырезать, то все его вершины расположены на расстоянии не более 2010 от корня; отсюда получаем, что дерево находится в кубе со стороной $2 \cdot 2010 + 1$. Поэтому число его вершин не превосходит $4021^3 \leq 2^{36}$. С другой стороны, число его вершин равно $2^{2011} - 1$. Полученное противоречие завершает доказательство. Задача о вырезании модифицированного дерева решается не просто.

1.3.4 Указание. Двоичное дерево вырезать нельзя; рассуждайте аналогично решению задачи 1.3.3, пользуясь тем, что более двух вершин склеиться не могут. Модифицированное двоичное дерево можно вырезать из плоскости (см рисунок 19), а троичное из пространства аналогичным образом (см рисунок 20). Доказательство проводится индукцией по глубине дерева.

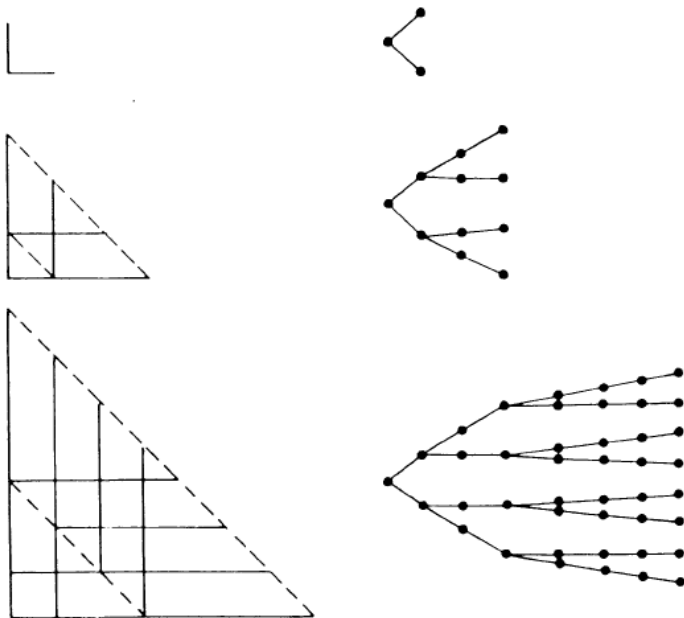


Рис. 19: Вырезание двоичного дерева с пересечениями из плоскости; см решение задачи 1.3.4.

1.3.5 Указание. Для любого $n = 2^i - 1$ рассмотрим множество вершин (x, y, z) , где $|x| + |y| + |z| \leq n$. Пусть R_i — сопротивление между началом координат и границей такой фигуры. Как известно из задачи 1.3.4, из такой части решетки можно вырезать модифицированное троичное дерево глубины i с пересечениями ребер на равном рас-

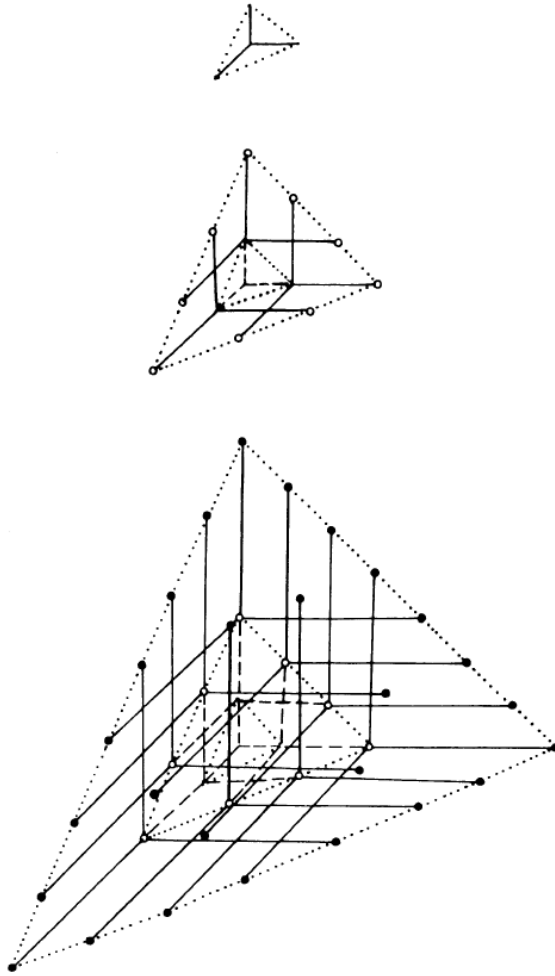


Рис. 20: Вырезание троичного дерева с пересечениями из пространства; см решение задачи 1.3.4.

стоянии от корня. Легко заметить, что сопротивление дерева с такими пересечениями равно сопротивлению такого же дерева без пересечений. Как известно из задачи 1.3.2, сопротивления модифицированных троичных деревьев не превосходят 1. Поэтому не превосходят 1 и сопротивления вырезаемых деревьев с пересечениями. Из закона монотонности получаем, что $R_i \leq 1$. Значит, при подключении батарейки в 1 вольт ток будет не меньше 1. Следовательно, потенциалы в вершинах, соседних с началом координат будут не больше $1 - \frac{1}{6} = \frac{5}{6}$. Они равны вероятности возврата в начало координат до попадания на границу. Переходя к пределу, получаем требуемое.

3.2. Разрезания прямоугольника

2.1.1 Занумеруем квадраты (полки) как показано на рис. 21. Можно считать, что вертикальная сторона большого прямоугольника (шкафа) равна 1. Горизонтальную сторону большого прямоугольника обозначим через x . Тогда искомое отношение сторон равно $R = 1/x$. Сторону квадрата номер k обозначим через x_k .

К левой стороне большого прямоугольника примыкают квадраты 2, 3 и 8, откуда $x = x_2 + x_3 + x_8$. К правой стороне квадрата 3 примыкают квадраты 1 и 4: $x_3 = x_1 + x_4$. Аналогично, $x_6 + x_8 = x_7$, $x_1 + x_2 = x_5 + x_6$, $x_4 + x_5 = x_9$. Сформулируем наше наблюдение в общем виде:

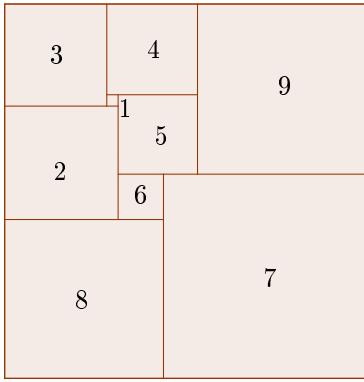


Рис. 21: Разрезание прямоугольника на 9 неравных квадратов

Условие вертикальной стыковки. Для каждого вертикального разреза сумма вертикальных сторон прямоугольников, примыкающих к разрезу слева, равна сумме вертикальных сторон прямоугольников, примыкающих справа. Вертикальная сторона большого прямоугольника равна сумме вертикальных сторон примыкающих к ней прямоугольников.

Глядя на схему разрезания, можно написать аналогичные уравнения, описывающие примыкание квадратов друг к другу горизонтальными сторонами:

Условие горизонтальной стыковки. Для каждого горизонтального разреза сумма горизонтальных сторон прямоугольников, примыкающих к разрезу сверху, равна сумме горизонтальных сторон прямоугольников, примыкающих снизу. Горизонтальная сторона большого прямоугольника равна сумме горизонтальных сторон примыкающих к ней прямоугольников.

Из этого условия: $1 = x_3 + x_4 + x_9$, $x_4 = x_1 + x_5$, $x_1 + x_3 = x_2$, $x_5 + x_9 = x_6 + x_7$, $x_2 + x_6 = x_8$.

Итак, нахождение отношения сторон прямоугольника сводится к решению системы уравнений, в нашем случае:

$$\begin{aligned} x &= x_2 + x_3 + x_8, & x_3 &= x_1 + x_4, & x_6 + x_8 &= x_7, & x_1 + x_2 &= x_5 + x_6, & x_4 + x_5 &= x_9, \\ x_3 + x_4 + x_9 &= 1, & x_4 &= x_1 + x_5, & x_1 + x_3 &= x_2, & x_5 + x_9 &= x_6 + x_7, & x_2 + x_6 &= x_8. \end{aligned}$$

Проиллюстрируем известный алгоритм Гаусса–Жордана решения системы линейных уравнений на нашем примере. Наша цель — преобразовать систему так, чтобы каждая неизвестная участвовала ровно в одном уравнении. Для неизвестной x это уже выполнено — она содержится только в первом уравнении.

Перейдем ко второму уравнению. В нем неизвестная x_3 выражена через x_1 и x_4 . Подставим это выражение в другие уравнения системы, содержащие неизвестную x_3 — в первое, шестое и восьмое. Получим систему:

$$\begin{aligned} x &= x_2 + x_1 + x_4 + x_8, & x_3 &= x_1 + x_4, & x_6 + x_8 &= x_7, & x_1 + x_2 &= x_5 + x_6, & x_4 + x_5 &= x_9, \\ x_1 + 2x_4 + x_9 &= 1, & x_4 &= x_1 + x_5, & 2x_1 + x_4 &= x_2, & x_5 + x_9 &= x_6 + x_7, & x_2 + x_6 &= x_8. \end{aligned}$$

Она равносильна исходной. Но теперь неизвестная x_3 участвует только во втором уравнении.

Перейдем к третьему уравнению. Подставляя выражение $x_7 = x_6 + x_8$ в девятое уравнение, получим систему, содержащую x_7 только в третьем уравнении:

$$x = x_2 + x_1 + x_4 + x_8, \quad x_3 = x_1 + x_4, \quad x_6 + x_8 = x_7, \quad x_1 + x_2 = x_5 + x_6, \quad x_4 + x_5 = x_9, \\ x_1 + 2x_4 + x_9 = 1, \quad x_4 = x_1 + x_5, \quad 2x_1 + x_4 = x_2, \quad x_5 + x_9 = 2x_6 + x_8, \quad x_2 + x_6 = x_8.$$

Будем продолжать таким же образом дальше. Каждый раз будем выражать одну из неизвестных в очередном уравнении через остальные. Будем подставлять полученное выражение в другие уравнения. В полученной системе выбранная неизвестная будет присутствовать только в одном уравнении. После этого процесс продолжается⁴.

В итоге мы получим систему “уравнений” (проверьте!):

$$x = 33/32, \quad x_3 = 9/32, \quad x_7 = 1/2, \quad x_1 = 1/32, \quad x_4 = 1/4, \\ x_9 = 15/32, \quad x_5 = 7/32, \quad x_2 = 5/16, \quad x_8 = 7/16, \quad x_6 = 1/8.$$

Тем самым решение исходной системы найдено. Итак, в примере 3 отношение сторон большого прямоугольника равно $R = 1/x = 32/33$. Значения неизвестных x_1, \dots, x_9 — это стороны квадратов. Тем самым мы получили пример разрезания прямоугольника на попарно различные квадраты.

2.1.5 См., например, статью [15].

2.1.6 (В) Приведем решение, использующее случайные блуждания. Другие решения намечены в пункте (А) и в задаче 2.2.5.

Рассмотрим случайное блуждание по электрической цепи. Пусть $P_T(x)$ — вероятность того, что, стартуя из вершины x и делая T шагов, мы достигнем положительного полюса батареи раньше, чем отрицательного. Ясно, что при фиксированном x последовательность $P_T(x)$ возрастает, значит, имеет предел $P(x)$. Функция $P(x)$ удовлетворяет аксиомам 1–2.

Замечание. Существование и единственность решения системы Кирхгофа — фундаментальные факты. Например, из единственности решения следует теорема Дена о том, что прямоугольник с иррациональным отношением сторон нельзя разрезать на квадраты. Из существования решения (в непрерывном случае) следует теорема Римана о конформном отображении [6].

2.2.1 Рассмотрим разрезание квадрата, изображенное на рисунке 14. Найдем отношение сторон R прямоугольников разрезания. Пусть сторона квадрата равна 1. Тогда последовательно находим $AB = 1/3$, $AC = R/3$, $CD = 1 - R/3$, $DE = R - R^2/3$. С другой стороны, $DE = 1/2$, значит, $R - R^2/3 = 1/2$. Решая квадратное уравнение, находим $R = (3 \pm \sqrt{3})/2$.

2.2.3 Рассмотрим некоторое разрезание. Растянем картинку в R раз по горизонтали. Получим прямоугольник с отношением сторон R , разрезанный на квадраты и прямоугольники с отношением сторон R^2 . Рассмотрим соответствующую электрическую цепь. Согласно теореме о сопротивлении цепи число R можно выразить через числа

⁴Вообще говоря, возможно, что после нашей подстановки все неизвестные в некотором уравнении сократятся, и оно примет вид $0 = 0$. В этом случае выбросим его из системы. Если же в результате подстановки получилось уравнение, в котором правая часть — ненулевое число, а все коэффициенты в левой части нулевые, то это означает, что исходная система не имеет решений.

1 и R^2 , пользуясь только четырьмя арифметическими действиями. Это означает, что найдутся два ненулевых многочлена $p(x)$ и $q(x)$ с целыми коэффициентами, такие что $R = \frac{p(R^2)}{q(R^2)}$. Значит, $q(R^2) \cdot R - p(R^2) = 0$. Получаем, что число R — корень многочлена $q(x^2) \cdot x - p(x^2)$. Последний многочлен имеет целые коэффициенты. Он ненулевой, так как многочлены $p(x^2)$ и $q(x^2)$ — ненулевые, причём в многочлен $p(x^2) \cdot x$ переменная x входит только в нечётной степени, а в многочлен $q(x^2)$ — только в чётной. Утверждение доказано.

2.2.4 (В) Нам потребуется такая лемма.

Лемма. Пусть $1 + \sqrt{2}$ — корень многочлена с целыми коэффициентами. Тогда $1 - \sqrt{2}$ — тоже корень этого многочлена.

Докажем лемму. Подставив в наш многочлен $P(x)$ с целыми коэффициентами вместо x число $1 + \sqrt{2}$, получим выражение вида $m + \sqrt{2}n$, где m и n — целые числа. Должны получить 0, и так как $\sqrt{2}$ иррационально, имеем $n = 0$ и $m = 0$. Если же мы подставим в $P(x)$ вместо x число $1 - \sqrt{2}$, то получим выражение $m - \sqrt{2}n$ (подумайте, почему). Так как $n = m = 0$, то снова получим 0, и значит $P(x)$ имеет корнем также и число $1 - \sqrt{2}$.

Вот другое доказательство леммы. Пусть $P(1 + \sqrt{2}) = 0$, где $P(x)$ — некий многочлен с целыми коэффициентами. Заметим, что число $1 + \sqrt{2}$ является также корнем многочлена $(x - (1 + \sqrt{2}))(x - (1 - \sqrt{2})) = x^2 - 2x - 1$. Поделим многочлен $P(x)$ на $x^2 - 2x - 1$ в столбик, получим в остатке некий многочлен $ax + b$ не более чем первой степени с рациональными коэффициентами: $P(x) = Q(x)(x^2 - 2x - 1) + ax + b$. Подставим в это равенство $x = 1 + \sqrt{2}$. Получим, что $a(1 + \sqrt{2}) + b = 0$, откуда, так как $1 + \sqrt{2}$ иррационально, $a = 0$, а значит и $b = 0$. Поэтому $P(x)$ делится на $x^2 - 2x - 1$, а значит имеет корнем также и число $1 - \sqrt{2}$.

Докажем теперь утверждение задачи. Предположим, что квадрат разрезан на прямоугольники с отношениями сторон $1 + \sqrt{2}$ и $\frac{1}{1 + \sqrt{2}}$. Растянем его в $1 + \sqrt{2}$ раз по горизонтали. Получим разрезание прямоугольника с отношением сторон $1 + \sqrt{2}$. Рассмотрим соответствующую электрическую цепь. Она состоит из резисторов сопротивлением 1 и $(1 + \sqrt{2})^2$, и имеет сопротивление $1 + \sqrt{2}$. Согласно теореме о сопротивлении цепи, найдутся такие многочлены $p(x)$ и $q(x)$ с целыми коэффициентами, что $1 + \sqrt{2} = \frac{p((1 + \sqrt{2})^2)}{q((1 + \sqrt{2})^2)}$. Значит, $q((1 + \sqrt{2})^2) \cdot (1 + \sqrt{2}) - p((1 + \sqrt{2})^2) = 0$. Согласно предыдущей лемме, $q((1 - \sqrt{2})^2) \cdot (1 - \sqrt{2}) - p((1 - \sqrt{2})^2) = 0$, то есть $\frac{p((1 - \sqrt{2})^2)}{q((1 - \sqrt{2})^2)} = 1 - \sqrt{2}$.

Заменим теперь в нашей цепи все резисторы сопротивлением $(1 + \sqrt{2})^2$ на резисторы сопротивлением $(1 - \sqrt{2})^2$. Сопротивление полученной цепи равно $\frac{p((1 - \sqrt{2})^2)}{q((1 - \sqrt{2})^2)}$. По доказанному выше, это число равно $1 - \sqrt{2}$. Мы получили, что сопротивление цепи из резисторов с положительными сопротивлениями отрицательно. Это противоречит задаче 2.1.7. Значит, требуемое разрезание невозможно. Утверждение задачи доказано.

2.2.5 См., например, статьи [9, 15, 2].

2.2.7 Замечание. Посмотрим внимательно на рассуждение из решения задачи 2.2.4(В).

Противоречие возникло из-за того, что число $1 - \sqrt{2}$, алгебраически сопряженное числу $R = 1 + \sqrt{2}$, отрицательно. (Число z называется алгебраически сопряженным числу R , если оно является корнем многочлена минимальной степени с целыми коэффициентами, имеющего корень R .) Это — проявление следующей общей закономерности:

Теорема Ласковича–Ринна–Секереша–Фрайлинга (1994) [11, 13] *Для числа $R > 0$ следующие три условия эквивалентны:*

- 1) *Квадрат можно разрезать на прямоугольники с отношением сторон R и $\frac{1}{R}$.*
- 2) *Для некоторых положительных рациональных чисел c_i выполнено равенство*

$$c_1 R + \frac{1}{c_2 R + \frac{1}{c_3 R + \cdots + \frac{1}{c_n R}}} = 1.$$

- 3) *Число R является корнем ненулевого многочлена с целыми коэффициентами, причем все комплексные числа, алгебраически сопряженные числу R , имеют положительную действительную часть.*

Доказательство этой теоремы выходит за рамки настоящего курса. Отметим только, что ее можно доказать в целом аналогично предыдущей задаче, используя цепи переменного тока [15].

3.3. Благодарности

Большинство задач частей 1 и 2 заимствованы из статьи П. Дойля и Дж. Снелл [9], а также автора и М. Прасолова [14], соответственно. Решения задач части 1 заимствованы из [3].

4. Список литературы

- [1] А. Варламов, Правила Кирхгофа, *Квант* $\epsilon 1$ (1985).
- [2] О. Ляшко, Почему не уменьшится сопротивление, *Квант* (1985).
- [3] D. Baranov, A. Ustinov, M. Skopenkov, Random walks through electric networks, 22th Summer conference of the International mathematical Tournament of towns, <http://olympiads.mccme.ru/lktg/2010/4/index.htm>.
- [4] I. Benjamini and O. Schramm, Random walks and harmonic functions on infinite planar graphs using square tilings, *Ann. Prob.* **24:3** (1996), 1219–1238.
- [5] R. L. Brooks, C. A. B. Smith, A. H. Stone, and W. T. Tutte, The dissection of rectangles into squares, *Duke Math. J.* **7** (1940), 312–340.
- [6] J. Cannon, W. Floyd, W. Parry, Squaring rectangles: the finite Riemann mapping theorem, *Contemp. Math.* **169** (1994), 133–211.

- [7] R. Courant, K. Friedrichs, H. Lewy, Über die partiellen Differenzgleichungen der mathematischen Physik, *Math. Ann.*, **100**, (1928), 32–74. English transl.: *IBM Journal* (1967), 215–234. Russian transl.: *Russ. Math. Surveys* **8** (1941), 125–160. <http://www.stanford.edu/class/cme324/classics/courant-friedrichs-lewy.pdf>
- [8] M. Dehn, über die Zerlegung von Rechtecken in Rechtecke, *Math. Ann.* **57** (1903), 314–332 (in German).
- [9] P. G. Doyle and J. L. Snell, *Random walks and electric networks*, Mathematical Association of America, 1984, <http://arxiv.org/abs/math.PR/0001057>.
- [10] R. M. Foster, Academic and Theoretical Aspects of Circuit Theory, *Proc. IRE* **50:5** (1962), 866–871.
- [11] C. Freiling and D. Rinne, Tiling a square with similar rectangles, *Math. Res. Lett.* **1** (1994), 547–558.
- [12] R. Kenyon, Tilings and discrete Dirichlet problems, *Israel J. Math.* **105:1** (1998), 61–84.
- [13] M. Laczkovich and G. Szekeres, Tiling of the square with similar rectangles, *Discr. Comp. Geom.* **13** (1995), 569–572.
- [14] M. Prasolov and M. Skopenkov, Dissections of a metal rectangle, *Kvant* (2011) (in Russian), submitted, <http://arxiv.org/abs/1011.3180>.
- [15] M. Prasolov and M. Skopenkov, Tilings by rectangles and alternating current, *J. Combin. Theory A* **118:3** (2011), 920–937, <http://arxiv.org/abs/1002.1356>.
- [16] F. Spitzer, *Principles of random walks*, Springer–Verlag, 1976.